

## Los het tussenin maar op ronde 2.

### 1. Geef de gebeurtenis het juiste jaartal. (elk correct antwoord ½ punt)

**Mogelijke jaartallen : 2009-2010-2011-2012-2013-2014-2015-2016-2017-2018**

- A)** Aswolk van de vulkaanuitbarsting van de Eyjafjallajökul zorgt in verschillende Europese landen voor sluiting van het luchtruim.
- B)** Op de Filippijnen passeert tyfoon Haiyan.
- C)** Donald Trump wordt 45<sup>e</sup> president van de Verenigde Staten.
- D)** Steekpartij in kinderdagverblijf Fabeltjesland, 2 kinderen en 1 volwassene dood.
- E)** Malaysia Airline vlucht 370 verdwijnt op weg naar Peking, aan boord 239 mensen.
- F)** Vrachtwagen rijdt in op toeschouwers op de Promenade des Anglais.
- G)** In Londen vindt het huwelijk van William Van Wales en Catherine Middleton plaats.
- H)** Schietpartij op middelbare school, Florida, 17 doden, schutter was geschorste ex-leerling.
- I)** 60<sup>e</sup> Editie van het songfestival vindt plaats in Wenen, Zweden wint.
- J)** In tunnel op de A9 bij Zwitserse Sierre verongelukt een Belgische bus met schoolkinderen op terugweg van skivakantie.

### 2. Los op ?













### 3. Euro's tellen ?

Lien en Lena spelen een spelletje met hun zakgeld. Als Lien aan Lena een biljet van 10€ geeft, krijgt ze er een van 20€ terug. Geeft ze Lena een biljet van 20€, dan krijgt Lien er een van 50€ terug. Geeft Lien echter een biljet van 50€, dan krijgt ze er slechts een van 10€ terug. Lien geeft Lena 190€. Hoeveel euro krijgt ze maximaal terug ?

4. Wat staat er op de plaats van het ??


A.

			= 15
			= 25
			= 20
= 20		= 18	

B.

50	40	36	32
25	30	29	16
Z	K	H	

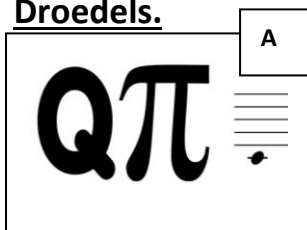
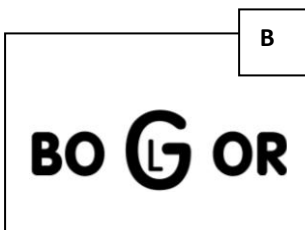
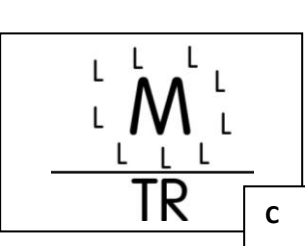

5. Wie zie je op deze foto's ?



6. Dobbelstenen ?

Twee dobbelstenen zijn zodanig vervalst dat de kans om een zes te gooien het dubbel is van de kans op elke andere uitkomst. Bereken de kans om met deze 2 dobbelstenen meer dan 5 te gooien.

7. Droedels.

			
---	---	--	---

## 8. Trollen.

In sprookjesland liegen de trollen altijd en vertellen de elfen steeds de waarheid.

Vijf van hen staan naast elkaar op een rij.

- \* De eerste zegt : “Mijn buur is een trol.”
- \* De tweede zegt : “Mijn burens zijn elfen.”
- \* De derde zegt : “Mijn burens zijn trollen.”
- \* De vierde zegt : “Ik heb een elf en een trol als buur.”
- \* De vijfde zegt : “Mijn buur is een elf.”

Hoeveel elfen staan er in de rij ?

## 9. Rara, wat ben ik ?

Het is wel in een jaar maar niet in een eeuw. Steeds in een maand maar nooit in de week. Wel in een dag maar niet in een uur. Wat ben ik ?

# Oplossing : Los het tussenin maar op ronde 2.

1. Geef de gebeurtenis het juiste jaartal.

- A) 2010
- B) 2013
- C) 2017
- D) 2009
- E) 2014
- F) 2016
- G) 2011
- H) 2018
- I) 2015
- J) 2012

2. Los op ?

Geneesmiddel

3. Euro's tellen

470€

4. Welk getal staat er op de plaats van het ??

A.  $\heartsuit = 4$     $\greenheartsuit = 9$     $\purpleheartsuit = 7$

$\heartsuit_4 \heartsuit_4 \purpleheartsuit_7 = 15$

$\greenheartsuit_9 \greenheartsuit_9 \purpleheartsuit_7 = 25$

$\purpleheartsuit_7 \greenheartsuit_9 \heartsuit_4 = 20$

$= 20$     $= 22$     $= 18$

B.   **50   40   36   32**

**25   30   29   16**

**Y   J   G   Q**

5. Wie of wat zie je hier ?

- A) De Wever Bart
- B) Van Riet Bartel
- C) Bauer Frans
- D) Beyonce (Beyoncé Giselle Knowles-Carter)

6. Dobbelstenen ?

Kans dat je meer dan 5 gooit is  $39/49 = 79.59\%$

Berekening :

	1	2	3	4	5	6	6
1	2	3	4	5	6	7	7
2	3	4	5	6	7	8	8
3	4	5	6	7	8	9	9
4	5	6	7	8	9	10	10
5	6	7	8	9	10	11	11
6	7	8	9	10	11	12	12
6	7	8	9	10	11	12	12

7. Droedels ?

- A) Cupido
- B) Inboorling
- C) Optrommelen
- D) Proper

8. Trollen.

3 elfen

9. Rara, wat ben ik ?

De letter A